

ใบงานที่ 2.1

เรื่องลักษณะภูมิประเทศของทวีปแอฟริกา

คำชี้แจง ให้นักเรียนหาคำตอบเติมลงในกรอบให้สมบูรณ์

ภาคเหนือ

.....

.....

ภาคตะวันตก

.....

.....

ภาคกลาง

.....

.....

ภาคใต้

.....

.....

ภาคตะวันออก

.....

.....

Map Trek Brads and Meanders

Map Trek Deltas

Map Trek Great Lakes

Equator

Niger

Prime Meridian

ASIA

AFRICA

Map Trek

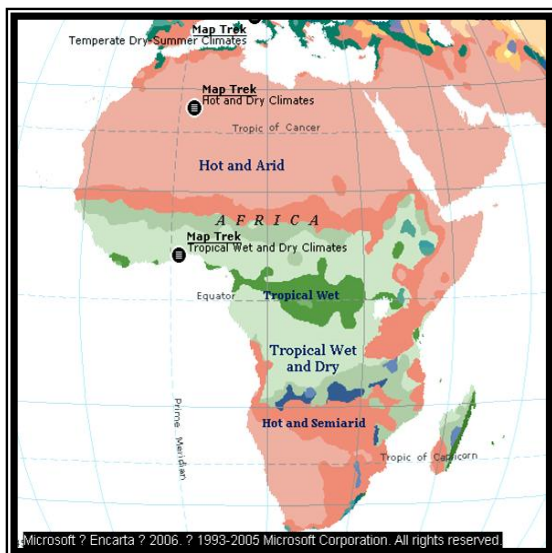
ft ? Encarta ? 2006 ? 1993-2005 Microsoft Corporation. All rights reserved.

จากการสำรวจสภาพภูมิศาสตร์
ของทวีปแอฟริกา พบว่าในแต่ละ
ภาคของทวีปนี้มีลักษณะภูมิ
ประเทศที่สำคัญ ดังต่อไปนี้



เรื่องลักษณะภูมิอากาศของทวีปแอฟริกา

คำชี้แจง ให้นักเรียนตอบคำถามต่อไปนี้ให้ถูกต้อง



1. ลักษณะภูมิอากาศส่วนใหญ่ของทวีปแอฟริกา มีลักษณะอย่างไร.....
.....
.....

2. การที่ทวีปแอฟริกา มีสภาพภูมิอากาศที่แตกต่างกัน เกิดจากปัจจัยใด.....
.....
.....


3. ลักษณะภูมิอากาศส่งผลต่อการพัฒนาทวีปแอฟริกาอย่างไร.....
.....
.....

4. พืชพรรณธรรมชาติ ส่วนใหญ่ ของทวีปแอฟริกา มีลักษณะอย่างไร
.....
.....
.....

5. นิเขามีอาชีพเกษตรกร เพราะปลูกพืชผักผลไม้ แต่ไม่ได้ผล นักเรียนคิดว่า สาเหตุมาจากอะไรเป็นสำคัญ.....
.....
.....

เรื่องลักษณะทางเศรษฐกิจของทวีปแอฟริกา


คำชี้แจง ให้นักเรียนตอบคำถามต่อไปนี้ให้ถูกต้อง



1. ฐานะทางเศรษฐกิจของทวีปแอฟริกาขึ้นอยู่กับสิ่งใด

.....


.....



2 การเพาะปลูกเป็นอาชีพของประชากรในทวีปแอฟริกาส่วนใหญ่มีลักษณะอย่างไร.....

.....

.....



3. การเลี้ยงสัตว์ในทวีปแอฟริกา ส่วนใหญ่มีการเลี้ยงแบบใด

.....



.....



4. เพราะเหตุใดกำลังการผลิตอุตสาหกรรมของทวีปแอฟริกาจึงอยู่ในขั้นต่ำ

.....

.....



5. การคมนาคมเป็นปัจจัยสำคัญในการพัฒนาเศรษฐกิจ นักเรียนคิดว่า การคมนาคมในทวีปแอฟริกาส่วนใหญ่เป็นอย่างไร

.....

.....

เรื่องลักษณะทางสังคมและวัฒนธรรมของทวีปแอฟริกา

คำชี้แจง ให้นักเรียนตอบคำถามต่อไปนี้ให้ถูกต้อง



1. ทวีปแอฟริกาเป็นทวีปที่มีความแตกต่างกันทางด้านสังคม สามารถแบ่งออกได้เป็น 3 ประเภทได้แก่

1.1. สังคมของพวกที่มีวัฒนธรรมดั้งเดิม มีวิถีชีวิตอย่างไร

.....
.....



1.2. สังคมของชาวแอฟริกันที่อาศัยในชนบท มีวิถีชีวิตอย่างไร

.....
.....



1.3. สังคมของพวกที่ได้รับวัฒนธรรมตะวันตก มีวิถีชีวิตอย่างไร

.....
.....

2. แหล่งอารยธรรมสำคัญโบราณของแอฟริกาอยู่ในแถบใด และสิ่งที่ชาวโลกได้รับจากแหล่งอารยธรรมนั้นคือสิ่งใดบ้าง

.....
.....



เฉลย ใบงานที่ 2.1

เรื่องลักษณะภูมิประเทศของทวีปแอฟริกา

คำชี้แจง ให้นักเรียนหาคำตอบเติมลงในกรอบให้สมบูรณ์

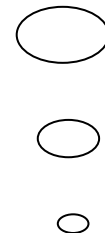
Map of Africa with callouts describing its geographical features:

- ภาคเหนือ** ประกอบด้วยที่ราบลุ่มแม่น้ำไนล์ที่มีความอุดมสมบูรณ์ และบริเวณทะเลทรายสะฮารา และทิวเขา เช่น ทิวเขาแอตลาส
- ภาคตะวันตก** ประกอบด้วยที่ราบลุ่มแม่น้ำไนเจอร์ที่มีประชากรหนาแน่น ทางตอนเหนือคือส่วนหนึ่งของทะเลทรายสะฮาราที่ราบสูงกินี
- ภาคตะวันออก** ประกอบด้วยภูเขาที่มีความสูงที่สุดของภาค คือ คิลิมายาโร ที่ราบสูงเอธิโอเปีย ทะเลสาบต่างๆ มีแนวทรุดตัวของเปลือกโลก
- ภาคกลาง** ประกอบด้วยที่ราบลุ่มน้ำคองโก และแม่น้ำสาขาต่างๆ เทือกเขาแคเมอรูน และที่ราบสูง เช่น ที่ราบสูงอะดามาวา
- ภาคใต้** ประกอบด้วยแนวเทือกเขาทรานเคนเบอร์ก ที่ราบลุ่มแม่น้ำออเรนจ์ที่อุดมสมบูรณ์ และ ทะเลทรายกาลาฮารี ทะเลทรายนามิบ

Map labels: Mediterranean Sea, Nile, Niger, Prime Meridian, Equator, Great Lakes, Brains and Meanders, Deltas, Africa.

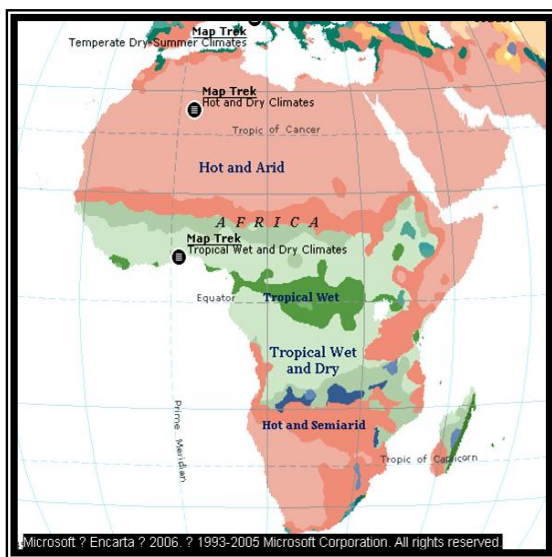
ft ? Encarta ? 2006 ? 1993-2005 Microsoft Corporation. All rights reserved.

จากการสำรวจสภาพภูมิศาสตร์ของทวีปแอฟริกา พบว่าในแต่ละภาคของทวีปนี้มีลักษณะภูมิประเทศที่สำคัญ ดังต่อไปนี้



เรื่องลักษณะภูมิอากาศของทวีปแอฟริกา

คำชี้แจง ให้นักเรียนตอบคำถามต่อไปนี้ให้ถูกต้อง



1. ลักษณะภูมิอากาศส่วนใหญ่ของทวีปแอฟริกา มีลักษณะอย่างไร เป็นทวีปที่มีลักษณะภูมิอากาศที่แตกต่างกันมากตลอดทั้งปี ภูมิอากาศส่วนใหญ่เป็นแบบร้อนชื้นหรือป่าดิบชื้น มีฝนตกตลอดปี พื้นที่แกละคิวกกลางจะเป็นทะเลทราย อากาศร้อน

2. การที่ทวีปแอฟริกา มีสภาพภูมิอากาศที่แตกต่างกัน เกิดจากปัจจัยใด ความกว้างใหญ่ของทวีป ระยะห่างจากทะเล ตำแหน่งที่ตั้งของทวีปที่อยู่ทั้งซีกโลกเหนือและซีกโลกใต้ มีเส้นศูนย์สูตรลากผ่านกึ่งกลางทวีป กระแสน้ำ และทิศทางลมประจำ

3. ลักษณะภูมิอากาศส่งผลต่อการพัฒนาทวีปแอฟริกาอย่างไร ทวีปแอฟริกา มีอากาศร้อนชื้น ทำให้มีโรคภัยไข้เจ็บมากมายและระบาดได้ง่าย พื้นที่ตอนบนของทวีปเป็นทะเลทรายไม่สะดวกต่อการคมนาคม ทำให้นักลงทุนไม่เข้ามาลงทุน

4. พืชพรรณธรรมชาติ ส่วนใหญ่ ของทวีปแอฟริกา มีลักษณะอย่างไร เป็นป่าฝนเมืองร้อนหรือป่าดิบชื้น ต้นไม้มีลำต้นสูงใหญ่ เช่น ป่าในแถบกลุ่มแม่น้ำคองโกที่ราบชายฝั่งตะวันตกแถบอ่าวกินี และฝั่งตะวันออกของเกาะมาดากัสการ์

5. นิเขามีอาชีพเกษตรกร เพาะปลูกพืชผักผลไม้ แต่ไม่ได้ผล นักเรียนคิดว่าสาเหตุมาจากอะไรเป็นสำคัญ มีปริมาณน้ำฝนไม่เพียงพอ อุณหภูมิสูงทำให้น้ำมีการระเหยอย่างรวดเร็ว มีการชะล้างของดินมาก

เรื่องลักษณะทางเศรษฐกิจของทวีปแอฟริกา

คำชี้แจง ให้นักเรียนตอบคำถามต่อไปนี้ให้ถูกต้อง




1. ฐานะทางเศรษฐกิจของทวีปแอฟริกาขึ้นอยู่กับสิ่งใด ภูมิภาคแอฟริกาเหนือมีรายได้สำคัญจากทรัพยากรธรรมชาติเช่นน้ำมันและแร่ธาตุ ส่วนภูมิภาคตะวันตกและตะวันออกขึ้นอยู่กับผลิตผลทางการเกษตร



2 การเพาะปลูกเป็นอาชีพของประชากรในทวีปแอฟริกาส่วนใหญ่มีลักษณะอย่างไร การเพาะปลูกเพื่อยังชีพ มีการทำไร่เลื่อนลอย อาศัยธรรมชาติเป็นหลัก ส่วนเขตที่ชาวยุโรปเข้าไปบุกเบิกเป็นการปลูกเพื่อการค้า ทำไร่ขนาดใหญ่



3. การเลี้ยงสัตว์ในทวีปแอฟริกา ส่วนใหญ่มีการเลี้ยงแบบใด ชาวพื้นเมืองใช้วิธีการเลี้ยงสัตว์แบบเร่ร่อน ส่วนการเลี้ยงแบบฟาร์มปศุสัตว์จะมีเฉพาะทุ่งหญ้าเขตอบอุ่นที่ชาวยุโรปเข้ามาดำเนินการ



4. เพราะเหตุใดกำลังการผลิตอุตสาหกรรมของทวีปแอฟริกาจึงอยู่ในขั้นต่ำ การบุกเบิกทรัพยากรธรรมชาติไม่ทั่วถึง ความไม่มั่นคงทางการเมือง การมีนโยบายทางเศรษฐกิจที่ไม่แน่นอน ขาดการวางแผนที่ดี ห่วงไกลตลาดการค้า



5. การคมนาคมเป็นปัจจัยสำคัญในการพัฒนาเศรษฐกิจ นักเรียนคิดว่า การคมนาคมในทวีปแอฟริกาส่วนใหญ่เป็นอย่างไร การคมนาคมในทวีปส่วนใหญ่ยังล่าช้าลง เส้นทางต่าง ๆ ภายในทวีปยังขาดการเชื่อมต่อ เนื่องจากสภาพภูมิประเทศไม่เอื้ออำนวย โดยเฉพาะในเขตป่าทึบและเขตทะเลทราย

เรื่องลักษณะทางสังคมและวัฒนธรรมของทวีปแอฟริกา

คำชี้แจง ให้นักเรียนตอบคำถามต่อไปนี้ให้ถูกต้อง



1. ทวีปแอฟริกาเป็นทวีปที่มีความแตกต่างกันทางด้านสังคม สามารถแบ่งออกได้เป็น 3 ประเภทได้แก่

1.1. สังคมของพวกที่มีวัฒนธรรมดั้งเดิม มีวิถีชีวิตอย่างไร

เป็นสังคมของกลุ่มแอฟริกันนิโกรดั้งเดิม อาศัยอยู่ในเขตทรกึ่งกันดาร การคมนาคมเข้าไม่ถึง เช่นสังคมของพวกบีโกมี ดำรงชีพโดยการเก็บของป่าล่าสัตว์



1.2. สังคมของชาวแอฟริกันที่อาศัยในชนบท มีวิถีชีวิตอย่างไร

มีวิถีชีวิตขึ้นอยู่กับประเพณีดั้งเดิม เร่ร่อนไปตามฤดูกาล เช่นพวกมาไซ นิยมเลี้ยงสัตว์ และถือเอาจำนวนสัตว์เลี้ยงเป็นเครื่องแสดงฐานะ



1.3. สังคมของพวกที่ได้รับวัฒนธรรมตะวันตก มีวิถีชีวิตอย่างไร

เป็นพวกที่มีฐานะทางเศรษฐกิจสูงกว่าสองพวกแรก ได้รับการศึกษาสูง เป็นผู้นำ หรือผู้บริหารประเทศ

2. แหล่งอารยธรรมสำคัญโบราณของแอฟริกาอยู่ในแถบใด และสิ่งที่ชาวโลกได้รับจากแหล่งอารยธรรมนั้นคือสิ่งใดบ้าง
แถบลุ่มแม่น้ำไนล์ อารยธรรมที่ถ่ายทอดให้แก่ชาวโลกได้แก่ ด้านสถาปัตยกรรม การก่อสร้างปิรามิด ระบบชลประทาน การประดิษฐ์ตัวอักษรเฮียโรกลิฟฟิค ด้านการแพทย์ ทำมັນมีเก็บรักษาศพ เป็นต้น

